



SSE-IVEA-SSE-IVEA-SSE-IVEA-SSE-IVEA-SSE-IVEA-SSE-IVEA-SSE-IVEA

Para cualquier duda, *aclaración, adición, propuesta o crítica constructiva* sobre el contenido, fondo y forma de este documento, favor de dirigir sus comentarios al siguiente correo electrónico:
sse_ivea@ivea.gob.mx

SSE-IVEA-SSE-IVEA-SSE-IVEA-SSE-IVEA-SSE-IVEA-SSE-IVEA-SSE-IVEA



GUÍA DE ESTUDIO PARA LA PRESENTACIÓN DEL EXÁMEN DIAGNÓSTICO



**MODELO DE EDUCACIÓN PARA LA VIDA Y EL TRABAJO
NIVEL INTERMEDIO (PRIMARIA)**



NOTAS

CONTENIDO TEMÁTICO	PÁG.
PRESENTACIÓN	4
Proceso de inscripción	6
¿Cómo es un examen diagnóstico?	6
¿Qué debo hacer antes de presentar mi examen diagnóstico?	7
¿Cómo debo prepararme para el examen?	7
¿Qué debo hacer durante el examen?	8
¿Qué debo hacer después del examen?	9
a. Eje de lengua y comunicación	11
b. Eje de matemáticas	26
c. Eje de ciencias	45
HOJA DE RESPUESTAS	54
NOTAS	56

PRESENTACIÓN

La presente guía de ejercicios es para usted que está interesado en presentar el examen diagnóstico y obtener su certificado de educación primaria y/o secundaria, por esta razón, el Instituto Veracruzano de Educación para los Adultos (IVEA), ha elaborado una serie de ejercicios que le permitirán recordar y poner en práctica las competencias que ha adquirido a lo largo de la vida.

Esta guía está estructurada a partir de los ejes temáticos del Modelo Educación para la Vida y el Trabajo (MEVyT) como son: lengua y comunicación, matemáticas y ciencias, cada uno de los apartados considera los contenidos de los materiales didácticos del modelo educativo del nivel intermedio (primaria): **Para empezar, Saber leer, Leer y escribir, Los números, Cuentas útiles, Figuras y medidas, Vamos a conocernos y Vivamos mejor**; así como del nivel avanzado (secundaria): Hablando se entiende la gente, ¡Vamos a escribir!, Para seguir aprendiendo, Fracciones y porcentajes, Información y gráficas, Operaciones avanzadas, Nuestro planeta la Tierra y México nuestro hogar.



NOTAS

Lined area for taking notes.



NOTAS

Por tal motivo, esta guía tiene como función orientarle para que pueda aprovechar los servicios educativos y de acreditación que de forma gratuita ponemos a su disposición.

¡¡Esperamos le sea de utilidad!!

Proceso de inscripción

Solicite información en una Coordinación de Zona del IVEA, indicando qué certificado le interesa obtener.

Ahí le presentarán lo que debe estudiar, dónde pueden ayudarlo a aprender y quién le proporcionará los materiales para que estudie.

El IVEA reconoce lo que ya sabes, ya sea porque cuente con boletas de primaria o secundaria o por un examen diagnóstico o ambas opciones.

Con este examen el IVEA reconoce lo que usted ha aprendido durante su vida.

Así, usted estudiará solamente aquello que le falta por aprender para obtener su certificado y podrá terminar sus estudios más rápido. Por ello, lo invitamos a presentar su examen diagnóstico e iniciar sus estudios con el IVEA.

Por ello, lo invitamos a presentar su examen diagnóstico e iniciar sus estudios con el IVEA.

¿Cómo es un examen diagnóstico?

El examen diagnóstico se integra con preguntas de todos los temas y se estudian para obtener la primaria y/o la secundaria.



R
e
c
o
r
t
a
r

81	A	B	C	D	101	A	B	C	D	121	A	B	C	D	141	A	B	C	D
82	A	B	C	D	102	A	B	C	D	122	A	B	C	D	142	A	B	C	D
83	A	B	C	D	103	A	B	C	D	123	A	B	C	D	143	A	B	C	D
84	A	B	C	D	104	A	B	C	D	124	A	B	C	D	144	A	B	C	D
85	A	B	C	D	105	A	B	C	D	125	A	B	C	D	145	A	B	C	D
86	A	B	C	D	106	A	B	C	D	126	A	B	C	D	146	A	B	C	D
87	A	B	C	D	107	A	B	C	D	127	A	B	C	D	147	A	B	C	D
88	A	B	C	D	108	A	B	C	D	128	A	B	C	D	148	A	B	C	D
89	A	B	C	D	109	A	B	C	D	129	A	B	C	D	149	A	B	C	D
90	A	B	C	D	110	A	B	C	D	130	A	B	C	D	150	A	B	C	D
91	A	B	C	D	111	A	B	C	D	131	A	B	C	D	151	A	B	C	D
92	A	B	C	D	112	A	B	C	D	132	A	B	C	D	152	A	B	C	D
93	A	B	C	D	113	A	B	C	D	133	A	B	C	D	153	A	B	C	D
94	A	B	C	D	114	A	B	C	D	134	A	B	C	D	154	A	B	C	D
95	A	B	C	D	115	A	B	C	D	135	A	B	C	D	155	A	B	C	D
96	A	B	C	D	116	A	B	C	D	136	A	B	C	D	156	A	B	C	D
97	A	B	C	D	117	A	B	C	D	137	A	B	C	D	157	A	B	C	D
98	A	B	C	D	118	A	B	C	D	138	A	B	C	D	158	A	B	C	D
99	A	B	C	D	119	A	B	C	D	139	A	B	C	D	156	A	B	C	D
100	A	B	C	D	120	A	B	C	D	140	A	B	C	D	160	A	B	C	D

Firma del Joven o Adulto que
presentó examen

Clave C.Z. _____
Clave Sede _____

Fecha Aplicación _____
Fecha Captura _____



HOJA DE RESPUESTAS

HOJA 1

Puede llenarse con cualquier tipo de lápiz

NOMBRE DEL ADULTO: _____
APELLIDO PATERNO APELLIDO MATERNO NOMBRE(S)
 Conteste cada una de las preguntas, rellenando la opción (A, B, C o D) que corresponda a la respuesta correcta, ejemplo: A B C D

R
e
c
o
r
d
a
r

1	<input type="checkbox"/> A <input type="checkbox"/> B <input type="checkbox"/> C <input type="checkbox"/> D	21	<input type="checkbox"/> A <input type="checkbox"/> B <input type="checkbox"/> C <input type="checkbox"/> D	41	<input type="checkbox"/> A <input type="checkbox"/> B <input type="checkbox"/> C <input type="checkbox"/> D	61	<input type="checkbox"/> A <input type="checkbox"/> B <input type="checkbox"/> C <input type="checkbox"/> D
2	<input type="checkbox"/> A <input type="checkbox"/> B <input type="checkbox"/> C <input type="checkbox"/> D	22	<input type="checkbox"/> A <input type="checkbox"/> B <input type="checkbox"/> C <input type="checkbox"/> D	42	<input type="checkbox"/> A <input type="checkbox"/> B <input type="checkbox"/> C <input type="checkbox"/> D	62	<input type="checkbox"/> A <input type="checkbox"/> B <input type="checkbox"/> C <input type="checkbox"/> D
3	<input type="checkbox"/> A <input type="checkbox"/> B <input type="checkbox"/> C <input type="checkbox"/> D	23	<input type="checkbox"/> A <input type="checkbox"/> B <input type="checkbox"/> C <input type="checkbox"/> D	43	<input type="checkbox"/> A <input type="checkbox"/> B <input type="checkbox"/> C <input type="checkbox"/> D	63	<input type="checkbox"/> A <input type="checkbox"/> B <input type="checkbox"/> C <input type="checkbox"/> D
4	<input type="checkbox"/> A <input type="checkbox"/> B <input type="checkbox"/> C <input type="checkbox"/> D	24	<input type="checkbox"/> A <input type="checkbox"/> B <input type="checkbox"/> C <input type="checkbox"/> D	44	<input type="checkbox"/> A <input type="checkbox"/> B <input type="checkbox"/> C <input type="checkbox"/> D	64	<input type="checkbox"/> A <input type="checkbox"/> B <input type="checkbox"/> C <input type="checkbox"/> D
5	<input type="checkbox"/> A <input type="checkbox"/> B <input type="checkbox"/> C <input type="checkbox"/> D	25	<input type="checkbox"/> A <input type="checkbox"/> B <input type="checkbox"/> C <input type="checkbox"/> D	45	<input type="checkbox"/> A <input type="checkbox"/> B <input type="checkbox"/> C <input type="checkbox"/> D	65	<input type="checkbox"/> A <input type="checkbox"/> B <input type="checkbox"/> C <input type="checkbox"/> D
6	<input type="checkbox"/> A <input type="checkbox"/> B <input type="checkbox"/> C <input type="checkbox"/> D	26	<input type="checkbox"/> A <input type="checkbox"/> B <input type="checkbox"/> C <input type="checkbox"/> D	46	<input type="checkbox"/> A <input type="checkbox"/> B <input type="checkbox"/> C <input type="checkbox"/> D	66	<input type="checkbox"/> A <input type="checkbox"/> B <input type="checkbox"/> C <input type="checkbox"/> D
7	<input type="checkbox"/> A <input type="checkbox"/> B <input type="checkbox"/> C <input type="checkbox"/> D	27	<input type="checkbox"/> A <input type="checkbox"/> B <input type="checkbox"/> C <input type="checkbox"/> D	47	<input type="checkbox"/> A <input type="checkbox"/> B <input type="checkbox"/> C <input type="checkbox"/> D	67	<input type="checkbox"/> A <input type="checkbox"/> B <input type="checkbox"/> C <input type="checkbox"/> D
8	<input type="checkbox"/> A <input type="checkbox"/> B <input type="checkbox"/> C <input type="checkbox"/> D	28	<input type="checkbox"/> A <input type="checkbox"/> B <input type="checkbox"/> C <input type="checkbox"/> D	48	<input type="checkbox"/> A <input type="checkbox"/> B <input type="checkbox"/> C <input type="checkbox"/> D	68	<input type="checkbox"/> A <input type="checkbox"/> B <input type="checkbox"/> C <input type="checkbox"/> D
9	<input type="checkbox"/> A <input type="checkbox"/> B <input type="checkbox"/> C <input type="checkbox"/> D	29	<input type="checkbox"/> A <input type="checkbox"/> B <input type="checkbox"/> C <input type="checkbox"/> D	49	<input type="checkbox"/> A <input type="checkbox"/> B <input type="checkbox"/> C <input type="checkbox"/> D	69	<input type="checkbox"/> A <input type="checkbox"/> B <input type="checkbox"/> C <input type="checkbox"/> D
10	<input type="checkbox"/> A <input type="checkbox"/> B <input type="checkbox"/> C <input type="checkbox"/> D	30	<input type="checkbox"/> A <input type="checkbox"/> B <input type="checkbox"/> C <input type="checkbox"/> D	50	<input type="checkbox"/> A <input type="checkbox"/> B <input type="checkbox"/> C <input type="checkbox"/> D	70	<input type="checkbox"/> A <input type="checkbox"/> B <input type="checkbox"/> C <input type="checkbox"/> D
11	<input type="checkbox"/> A <input type="checkbox"/> B <input type="checkbox"/> C <input type="checkbox"/> D	31	<input type="checkbox"/> A <input type="checkbox"/> B <input type="checkbox"/> C <input type="checkbox"/> D	51	<input type="checkbox"/> A <input type="checkbox"/> B <input type="checkbox"/> C <input type="checkbox"/> D	71	<input type="checkbox"/> A <input type="checkbox"/> B <input type="checkbox"/> C <input type="checkbox"/> D
12	<input type="checkbox"/> A <input type="checkbox"/> B <input type="checkbox"/> C <input type="checkbox"/> D	32	<input type="checkbox"/> A <input type="checkbox"/> B <input type="checkbox"/> C <input type="checkbox"/> D	52	<input type="checkbox"/> A <input type="checkbox"/> B <input type="checkbox"/> C <input type="checkbox"/> D	72	<input type="checkbox"/> A <input type="checkbox"/> B <input type="checkbox"/> C <input type="checkbox"/> D
13	<input type="checkbox"/> A <input type="checkbox"/> B <input type="checkbox"/> C <input type="checkbox"/> D	33	<input type="checkbox"/> A <input type="checkbox"/> B <input type="checkbox"/> C <input type="checkbox"/> D	53	<input type="checkbox"/> A <input type="checkbox"/> B <input type="checkbox"/> C <input type="checkbox"/> D	73	<input type="checkbox"/> A <input type="checkbox"/> B <input type="checkbox"/> C <input type="checkbox"/> D
14	<input type="checkbox"/> A <input type="checkbox"/> B <input type="checkbox"/> C <input type="checkbox"/> D	34	<input type="checkbox"/> A <input type="checkbox"/> B <input type="checkbox"/> C <input type="checkbox"/> D	54	<input type="checkbox"/> A <input type="checkbox"/> B <input type="checkbox"/> C <input type="checkbox"/> D	74	<input type="checkbox"/> A <input type="checkbox"/> B <input type="checkbox"/> C <input type="checkbox"/> D
15	<input type="checkbox"/> A <input type="checkbox"/> B <input type="checkbox"/> C <input type="checkbox"/> D	35	<input type="checkbox"/> A <input type="checkbox"/> B <input type="checkbox"/> C <input type="checkbox"/> D	55	<input type="checkbox"/> A <input type="checkbox"/> B <input type="checkbox"/> C <input type="checkbox"/> D	75	<input type="checkbox"/> A <input type="checkbox"/> B <input type="checkbox"/> C <input type="checkbox"/> D
16	<input type="checkbox"/> A <input type="checkbox"/> B <input type="checkbox"/> C <input type="checkbox"/> D	36	<input type="checkbox"/> A <input type="checkbox"/> B <input type="checkbox"/> C <input type="checkbox"/> D	56	<input type="checkbox"/> A <input type="checkbox"/> B <input type="checkbox"/> C <input type="checkbox"/> D	76	<input type="checkbox"/> A <input type="checkbox"/> B <input type="checkbox"/> C <input type="checkbox"/> D
17	<input type="checkbox"/> A <input type="checkbox"/> B <input type="checkbox"/> C <input type="checkbox"/> D	37	<input type="checkbox"/> A <input type="checkbox"/> B <input type="checkbox"/> C <input type="checkbox"/> D	57	<input type="checkbox"/> A <input type="checkbox"/> B <input type="checkbox"/> C <input type="checkbox"/> D	77	<input type="checkbox"/> A <input type="checkbox"/> B <input type="checkbox"/> C <input type="checkbox"/> D
18	<input type="checkbox"/> A <input type="checkbox"/> B <input type="checkbox"/> C <input type="checkbox"/> D	38	<input type="checkbox"/> A <input type="checkbox"/> B <input type="checkbox"/> C <input type="checkbox"/> D	58	<input type="checkbox"/> A <input type="checkbox"/> B <input type="checkbox"/> C <input type="checkbox"/> D	78	<input type="checkbox"/> A <input type="checkbox"/> B <input type="checkbox"/> C <input type="checkbox"/> D
19	<input type="checkbox"/> A <input type="checkbox"/> B <input type="checkbox"/> C <input type="checkbox"/> D	39	<input type="checkbox"/> A <input type="checkbox"/> B <input type="checkbox"/> C <input type="checkbox"/> D	59	<input type="checkbox"/> A <input type="checkbox"/> B <input type="checkbox"/> C <input type="checkbox"/> D	79	<input type="checkbox"/> A <input type="checkbox"/> B <input type="checkbox"/> C <input type="checkbox"/> D
20	<input type="checkbox"/> A <input type="checkbox"/> B <input type="checkbox"/> C <input type="checkbox"/> D	40	<input type="checkbox"/> A <input type="checkbox"/> B <input type="checkbox"/> C <input type="checkbox"/> D	60	<input type="checkbox"/> A <input type="checkbox"/> B <input type="checkbox"/> C <input type="checkbox"/> D	80	<input type="checkbox"/> A <input type="checkbox"/> B <input type="checkbox"/> C <input type="checkbox"/> D

Para contestarlo, se divide en cinco cuadernillos (llamados sesiones, 1ra., 2da. y 3ra. Primaria, 4ta. y 5ta. Secundaria).

Si usted desea estudiar la **primaria**, contestará si así lo decide, un máximo de **3 cuadernillos** (3 sesiones).

Si usted desea estudiar solamente la **secundaria**, responderá como máximo **2 cuadernillos** (2 sesiones).

Para que se familiarice con el examen diagnóstico en esta guía le presentamos algunos ejercicios que al contestarlos estará ejercitando sus conocimientos y una hoja de respuestas similar a la que utilizará al contestar el examen.

¿Qué debo hacer antes de presentar mi examen diagnóstico?

Es importante recordar para qué le sirve, cómo esta integrado y qué debe hacer al presentar el examen.

No debe preocuparle si no puede contestar todas las preguntas, pues en caso de no contestarlas, le podremos apoyar a aprender lo que necesita.

Razón por la que es importante que antes de presentar su examen tome en cuenta las siguientes sugerencias **antes, durante y después** de que lo resuelva.

¿Cómo debo prepararme para el examen?

Antes de presentar cualquier ejercicio de evaluación es común que estemos nerviosos, ya que nos enfrentamos a situaciones desconocidas.

Para evitar que eso le suceda, le hacemos algunas sugerencias que le facilitarán el proceso de presentación del examen, en donde le acreditaremos lo que usted sabe y reforzaremos lo que le falta por aprender. Por tanto, usted no podrá reprobado el examen, ya que ésta no es su función.

El día del examen es necesario:

1. Presentarse puntual al lugar donde lo citaron (sede de aplicación).
2. Llevar una identificación con fotografía, lápiz, pluma, goma, sacapuntas y calculadora.
3. Escuchar atentamente las instrucciones del Aplicador de Exámenes, en caso de tener alguna duda pedirle que se la aclare detalladamente.
4. Anotar cuidadosamente en su Hoja de Respuestas sus datos personales y su firma.

¿Qué debo hacer durante el examen?

Una vez que le han entregado su examen y ha llenado sus datos en la Hoja de Respuestas, es necesario:

1. Leer cuidadosamente las instrucciones del Cuadernillo y las preguntas.
2. Responder primero las preguntas que le sean más fáciles y regresar al final a las que considere con mayor dificultad o no recuerde las respuestas.

SUBDIRECCIÓN DE SERVICIOS EDUCATIVOS

MTRO. CARLOS JORGE AGUILAR Y AGUILAR
SUBDIRECTOR
EXT. FAX: 2262
E-MAIL: caguilar@inea.gob.mx

DEPTO. DE FORMACIÓN DE PERSONAL EDUCATIVO
 ANTROP. MA. ESTHER CERDÁN PASARÁN EXT. 2143

DEPTO. DE ALFABETIZACIÓN, PRIMARIA Y SECUNDARIA
 LIC. PEDRO A. JIMÉNEZ FIGUEROA EXT. 1112

DEPTO. DE EDUCACIÓN INDÍGENA
 LIC. MA. ANGÉLICA RAMÍREZ VALDÉS EXT. 2125

DEPTO. DE EDUCACIÓN COMUNITARIA
 LIC. JUANA MARÍA MIRANDA CUEVAS EXT. 2125

TELS.: (01 228) 8147137, 8147157
TEL. GRATUITO: 01 800 5068780
E-MAIL: sse_ivea@ivea.gob.mx

Diseño por: 

- B) Saludar a las personas cuando llegamos a algún sitio.
- C) Abrirse paso entre la gente a fuerza de empujones y gritos.
- D) Respetar el orden de la fila para ser atendido en un establecimiento.

149. ¿Cuál de las siguientes afirmaciones respecto del cuidado del agua, es correcta?

- A) Lavar los coches utilizando una manguera ayuda a mantenerlos más limpios y a cuidar el ambiente.
- B) Lavar los coches utilizando una cubeta y un trapo, nos ayuda a ahorrar agua y a cuidar el ambiente
- C) Podemos lavar los coches utilizando una manguera o una cubeta, ya que el agua, gracias a su ciclo natural, nunca se contamina.
- D) Podemos lavar los coches con manguera si el día está nublado. Así el agua no se evapora y no se desperdicia.

150. En Acatlán no hay suficientes escuelas, por lo que autoridades y ciudadanos se unieron para crear una nueva escuela, ¿cuál de las siguientes acciones le corresponde a los padres de familia?

- A) Asegurarse que los niños asistan a clases.
- B) Dar de alta a la escuela ante la SEP.
- C) Contratar a los maestros.
- D) Construir la escuela.

3. Anotar la respuesta en la Hoja de Respuestas, revisando que el número de pregunta y la letra señalada corresponda a la pregunta que se responde.
4. Revisar que la hoja de respuestas tenga completos y correctos sus datos, su firma y todas las respuestas que usted marcó en el lugar correspondiente.
5. Entregar el Cuadernillo y la Hoja de Respuestas al Aplicador de Exámenes.

¿Qué debo hacer después del examen?

Cuando usted haya contestado su Cuadernillo, el personal del IVEA revisará las respuestas que dio a las preguntas e identificará lo que usted ya sabe y lo que le falta por aprender. Por eso es necesario:

1. Acercarse a las oficinas del IVEA y solicitar el informe de resultados de examen.
2. Identificar en el informe de resultados de examen (en caso de no haberlo contestado completamente) cuáles son los módulos que le faltan por estudiar.
3. Seleccionar entre los lugares que le presentarán personal del IVEA el que más le acomode para recibir el apoyo de un Asesor y continuar sus estudios, el día, el horario en que asistirá y el módulo con el que iniciará, para obtener su certificado de primaria o secundaria.
4. Asistir al lugar donde recibirá asesoría el día y la hora acordada para recibir sus libros de texto y platicar con

su Asesor sobre sus necesidades, planes e intereses de estudio.

5. Finalmente, en caso de haber contestado todo el examen diagnóstico satisfactoriamente, tendrá la posibilidad de acreditar, su primaria o secundaria, según sea el caso y el trámite de su certificado se lo realizarán inmediatamente.

- B) Útero.
- C) Vagina.
- D) Ovarios.

145. Javier tose mucho, se queja de dolor en los pulmones y se fatiga al subir las escaleras. De acuerdo con lo anterior, ¿cuál de los siguientes hábitos es probable que esté afectando su salud?

- A) Tomar refresco.
- B) Beber alcohol cada ocho días.
- C) Fumar una cajetilla de cigarros al día.
- D) Comer antojitos en puestos de la calle.

146. ¿Cuál de los siguientes menús es un ejemplo de comida equilibrada?

- A) Carne, leche y pollo.
- B) Aguacate, melón y ciruela.
- C) Jugo de piña, huevos y pan.
- D) Tamales, pan dulce y atole.

147. Jacinta ha notado que cada día más se le agrandan las caderas, glúteos y senos, y esto es debido a que se encuentra en la etapa llamada

- A) Niñez.
- B) Adulthood.
- C) Senectud.
- D) Adolescencia.

148. ¿Cuál de las siguientes conductas dificulta la convivencia entre las personas?

- A) Escuchar con atención cuando nos hablan.

VIVAMOS MEJOR

141. Para evitar accidentes por intoxicación, debemos las sustancias como el petróleo o aguarrás es necesario guardar las sustancias en recipientes como:
- Envases retornables.
 - Recipientes de cocina.
 - Botellas de refresco.
 - Recipientes especiales con señalamientos que indiquen que son materiales tóxicos.
142. ¿Cuál es una de las funciones del aparato digestivo del cuerpo humano?
- Triturar y digerir los alimentos.
 - Favorecer el intercambio gaseoso.
 - Dar soporte y movilidad al organismo.
 - Transportar la sangre a todas las células del cuerpo.
143. Una de las enfermedades más graves del aparato respiratorio causada por fumar es
- La gripe.
 - El raquitismo.
 - La gastroenteritis.
 - El enfisema pulmonar.
144. ¿En qué parte del aparato reproductor femenino se encuentra alojado el feto que dará vida a un futuro bebe?

A) Vulva.

Veracruz late con fuerza



EJE DE LENGUA Y COMUNICACIÓN PARA EMPEZAR

Indicación: Subraye la respuesta correcta en cada enunciado.

- Es un texto literario que nos da al final una moraleja.
 - Cuento
 - Novela
 - Historia
 - Fábula
- Un texto informativo sería:
 - La narración
 - El periódico
 - La leyenda
 - La anécdota
- ¿Qué nombre recibe la parte principal de un enunciado?
 - Verbo
 - Predicado
 - Sujeto
 - Complemento
- La parte del enunciado considerada como núcleo del predicado es el...
 - Artículo
 - El Verbo
 - El Sujeto
 - La Frase
- Los nombres de personas se escriben con letra...
 - Árábica
 - Minúscula
 - Manuscrita

Veracruz late con fuerza



D) Mayúscula

6. Que palabra se escribe con mayúscula...

- A) ruso
- B) mexicano
- C) coreano
- D) xico

7. Cuando se hacen preguntas para tener alguna información empleamos unos signos llamados de...

- A) Interrogación
- B) Admiración
- C) Comas
- D) Comillas

8. ¿Cuál expresión debe de llevar el signo de admiración?

- A) Donde
- B) Cuando
- C) Lleva
- D) Bravísimo

9. ¿Qué expresión debe de llevar el signo de interrogación?

- A) Llévalo
- B) Cuéntame
- C) Cuándo
- D) Mira

10. La palabra palúdico se refiere a una persona que padece de...

- A) Pulmonía
- B) Paludismo
- C) Parálisis
- D) Paperas

11. La expresión difamar se refiere a...

Veracruz late con fuerza



138. ¿Qué tipo de región natural del sureste de México, se caracteriza por su abundante lluvia y abundante vegetación?

- A) Selva.
- B) Bosque.
- C) Llanura.
- D) Desierto.

139. ¿En cuál de los siguientes casos Juan respetó la ley?

- A) Dejó de pagar la tenencia de su automóvil por cinco años.
- B) Evitó darle una “mordida” a un policía cuando se pasó un alto y pagó la multa correspondiente.
- C) Comprobó los gastos que realizó para su empresa con documentos falsos que le entregó a su jefe.
- D) Le dio dinero a un funcionario público para que agilizara los trámites para obtener su pasaporte y evitar irse de ilegal a otro país.

140. ¿Cuál de las siguientes mujeres ejerce un derecho que le otorga la Constitución?

- A) Margarita no va a la escuela por ser mujer.
- B) Estela se dedica al cuidado de sus hijos porque su esposo no la dejó terminar su carrera.
- C) Ana trabaja haciendo reparaciones de automóviles y le pagan lo mismo que a los hombres.
- D) Juana descansa en su casa porque por estar embarazada la corrieron de su trabajo.

Veracruz late con fuerza



PASOS

- I) Identificación del problema.
- II) Definición de propósitos.
- III) Investigación de información útil.
- IV) Identificación de los factores que generan el problema.
- V) Identificación de recursos.
- VI) Evaluación de actividades.
- VII) Desarrollo de actividades.
- VIII) Calendarización de actividades.

Del anterior procedimiento, elija la opción que presenta los pasos donde se tienen que plantear qué es lo que se quiere lograr en el proyecto comunitario y cuáles serían las prioridades, qué se tiene que hacer, la razón y meta que justifique la ejecución de cada acción, quién lo va a hacer y en qué fecha van a realizar las acciones programadas.

- A) 1 y 7
- B) 2 y 8
- C) 3 y 6
- D) 4 y 5

137. ¿Qué es lo primero que se tiene que hacer para mejorar la comunidad?

- A) Identificar las consecuencias de los problemas que la afectan.
- B) Conocer cuáles son los principales problemas que la afectan.
- C) Acudir a las autoridades a solicitar más recursos financieros.
- D) Realizar un inventario sobre los recursos de la comunidad.

- A) Denigrar
- B) Habladuría
- C) Expulsar
- D) Explicar

12. ¿Qué nombre recibe el acta en la cual se asienta el nombre de una persona?

- A) Defunción.
- B) Nacimiento.
- C) Certificados.
- D) Matrimonio

13. Nombre del documento con el que se reconoce al propietario de un vehículo...

- A) Recibo
- B) Tarjeta
- C) Licencia
- D) Factura

14. Documento que nos acredita como dueño de una propiedad o vivienda...

- A) Factura
- B) Licencia
- C) Escrituras
- D) Tarjetón

15. Nombre que recibe el documento que especifica haber cubierto el pago de luz o agua

- A) Vale
- B) Recibo
- C) Boleta
- D) Pagaré

16. Con la finalidad de conocer el transcurrir el tiempo y los días, es importante tener siempre a la mano un

- A) Calendario

- B) Cronómetro
- C) Brújula
- D) Despertador

17. Para conocer la distribución geográfica que tiene una determinada población es necesario contar con un

- A) Plano
- B) Croquis
- C) Planisfério
- D) Mapa

18. La selección de distintas obras literarias reciben el nombre de...

- A) Compendio
- B) Textos
- C) Biblioteca
- D) Antología

19. Un documento importante que debe un ciudadano traer siempre...

- A) Credencial I.F.E.
- B) Cartilla
- C) Licencia
- D) Tarjeta

20. ¿Qué nombre reciben las expresiones que se emplean cuando a una persona se le dirigen con cariño?

- A) Apodo
- B) Afecto
- C) Despectivamente
- D) Diminutivo

v) Definir los objetivos que se desean lograr: Que disminuya el número de niños y personas que se enferman.

- A) 2, 3, 5, 4 y 1
- B) 5, 4, 1, 2 y 3
- C) 1, 2, 4, 3 y 5
- D) 4, 1, 2, 5 y 3

135. ¿Cuál de las siguientes comunidades realizó acciones para proteger, conservar y aprovechar racionalmente las áreas naturales?

- A) Los habitantes de Amatlán construyeron una brecha vecinal con recursos propios.
- B) Los comerciantes del pueblo de Zanalejo donaron una campana para la Iglesia.
- C) Los ejidatarios de Ocotepc para la fiesta del santo Patrón solicitaron una cooperación a los vecindados al pueblo.
- D) Los indígenas de San Miguel Quetzaltepec formaron una cooperativa para cuidar los bosques y los animales de la región.

136. Analice con atención el siguiente texto, los pasos para elaborar un proyecto comunitario y conteste la pregunta.

Los pobladores de la comunidad de Los pescados tienen interés en realizar un proyecto comunitario para unificar esfuerzos, ahorrar tiempo y recursos en la solución de problemas colectivos.

- B) Formar a sus integrantes de modo que sean capaces de desarrollarse productivamente como personas.
- C) Fomentar el amor a la Patria y la conciencia de la solidaridad internacional.
- D) Procrear hijos se les satisfaga todas sus necesidades básicas.

134. Lea el siguiente texto y conteste la pregunta.

En la comunidad Emiliano Zapata, cuando llueve se inundan las calles porque las coladeras se tapan debido a la basura que tira la gente, aun cuando las autoridades municipales las destapan con frecuencia. Lo anterior ha propiciado que muchos niños y personas mayores se enfermen. Elija la opción que presenta en el orden correcto los pasos que deben seguir los habitantes de la comunidad Emiliano Zapata para solucionar el problema.

PASOS

- I) Evaluar los resultados alcanzados: Las calles ahora están limpias, no se inundan y por consecuencia disminuyó el número de niños y personas mayores que se enferman.
- II) Identificar el problema: Muchos niños y personas mayores se enferman de gripe o del estómago.
- III) Causas que provocan el problema: Coladeras tapadas, las personas tiran basura en las calles y no barren sus banquetas o aceras.
- IV) Proponer o realizar actividades: Destapar las coladeras, realizar una campaña para que las personas no tiren basura en las calles y barran sus banquetas y plantear al municipio que sancione a las personas que se les sorprenda depositando su basura en las calles.

21. El hijo de mi papá y mi mamá es mí...

- A) Primo
- B) Tío
- C) Hermano
- D) Sobrino

22. ¿Qué tipo de descripciones son importantes para localizar a personas extraviadas?

- A) Ojos
- B) Nariz
- C) Boca
- D) Físicas

23. Sirve para comunicar información precisa de una persona ausente, que deja un mensaje con alguien conocido...

- A) Recado
- B) Telegrama
- C) Recibo
- D) Carta

24. Escrito que se utiliza para comunicarse a distancia y es una forma tradicional de enterarse de un familiar o amistad que generalmente esta muy lejos de nosotros...

- A) Teléfono
- B) Telegrama
- C) Aviso
- D) Carta

25. Escrito que sirve para convocar a las personas para asistir a ceremonias y eventos formales.

- A) Vale
- B) Invitación
- C) Carta
- D) Recado

SABER LEER

Indicación: Subraye la respuesta correcta en cada enunciado.

26. Nombre con el que se conoce a una información en la que se reconocen elementos que favorecen habilidades con artículos breves que localizamos en diversos materiales como periódicos, revistas, etc.

- A) Contexto
- B) Texto
- C) Enunciado
- D) Partícula

27. Un texto esta constituido por tres elementos que son...

- A) Introducción, Desarrollo y Desenlace.
- B) Información, Formación y Conclusión.
- C) Habilidades, Capacidades y Estimación.
- D) Introducción, desarrollo y Conclusión.

28. La información que contiene un texto, se puede comprender o sobrentender se le llama información...

- A) Explícita
- B) Expresa
- C) Implícita
- D) Impresa

29. La información que se dice o comenta de un texto recibe el nombre de...

- A) Desarrollada
- B) Explícita
- C) Conceptual
- D) Implícita.

EJE DE CIENCIAS VAMOS A CONOCERNOS

131. De las siguientes personas, marque con una X la opción que manifieste una actitud discriminatoria.

- A) **Juan:** A las mujeres no hay que entenderlas sólo hay que consentirlas y quererlas mucho.
- B) **Karina:** La mujer que se considere como tal, tiene que respaldar a su esposo en todo lo que él le diga.
- C) **Clementina:** A las mujeres hay que educarlas desde pequeñas para que sepan llevar un hogar y cuidar a su familia.
- D) **Jorge:** Las mujeres deben tener las mismas oportunidades que el hombre para superarse y emplearse donde mejor lo consideren.

132. Lea el siguiente texto y elija la opción que lo completa correctamente.

Para mejorar la convivencia en la familia es conveniente promover la _____ entre sus miembros.

- A) crítica
- B) obediencia
- C) indiferencia
- D) comunicación

133. La organización y algunas funciones de la familia han cambiado con el tiempo, ¿Cuál es una de las funciones actuales de la familia?

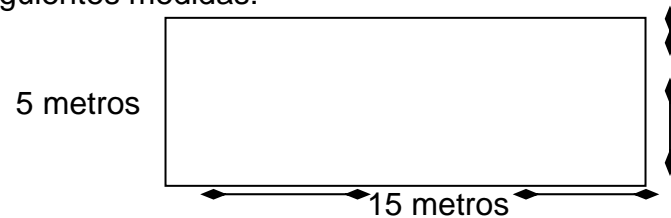
- A) Enseñar a sus miembros a hacerse justicia por sus propios medios.

- A) 10 bolsitas.
- B) 6 bolsitas.
- C) 2 bolsitas.
- D) 8 bolsitas.

129. Andrés tiene que repartir al restaurante de don Paco y de don Timoteo 15 botellas de leche para su consumo diario, si cada botella es de 500 mililitros, ¿Cuántos litros de leche necesita diariamente?

- A) 20 litros.
- B) 9 litros.
- C) 15 litros.
- D) 17 litros.

130. Rosalío va a poner pasto en su jardín, el cual tiene las siguientes medidas:



¿Cuántos metros cuadrados necesitará para cubrir todo su jardín?

- | | | | |
|-------------------|-------------------|-------------------|-------------------|
| 75 m ² | 65 m ² | 35 m ² | 47 m ² |
| A) | B) | C) | D) |

30. Cuando se fomenta el hábito de la lectura entre las personas jóvenes y adultas, organizando el intercambio de diversos textos, se está llevando a cabo un círculo de...

- A) Instrucción
- B) Estudio
- C) Lectura
- D) Comentario

31. Nombre de dos textos que sirven de intercambio en este proceso o círculo...

- A) Libros-Periódicos.
- B) Notas-Facturas.
- C) Cuentos-Actas.
- D) Instructivos-Cuestionarios.

32. La lectura de comprensión se puede llevar a cabo mediante textos literarios sencillos como...

- A) Revistas, Notas y Actas.
- B) Folletos, Volantes y Novelas.
- C) Receta médica, Receta de cocina y Recado.
- D) Poemas, Cuentos y Fábulas.

33. ¿Qué significa saber leer?

- A) Comprender sólo el significado de las palabras.
- B) Leemos por curiosidad
- C) Comprender e interpretar el mensaje escrito.
- D) Todo lo que se lee es información.

34. ¿Qué tipo o estilo de lectura empleamos cuando el propósito del lector es de tener una idea global de un texto?

- A) De búsqueda de información.

- B) De lectura detallada.
- C) Selectiva.
- D) De ojeada.

35. El estilo de lectura que se utiliza cuando se lee algo completo, sin dejar a un lado la información...

- A) Lectura de información.
 - B) Lectura detallada.
 - C) Lectura global.
 - D) Lectura de calidad.
- E) Lectura cuyo propósito consiste en buscar un nombre, una fecha, una dirección, un teléfono, etc...
- A) Lectura individual.
 - B) Lectura de ojeada.
 - C) Lectura simplificada.
 - D) Lectura selectiva.

36. Es el tipo de lectura que se emplea, cuando el propósito consiste en buscar información específica...

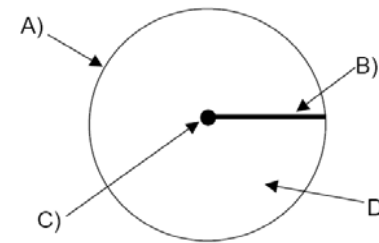
- A) Lectura detallada.
- B) Lectura global.
- C) Lectura de búsqueda de información.
- D) Lectura de cantidad.

37. El texto que nos indica, de cómo conocer y jugar con el lenguaje, sobre las cosas y tratar de atinar sobre el significado de éstas recibe el nombre de...

- A) Cuento.
- B) Fábula.
- C) Adivinanza.
- D) Información.

- | | | | |
|-----------|------------|------------|-----------|
| 50 metros | 200 metros | 100 metros | 80 metros |
| A) | B) | C) | D) |

125. Encierre la letra que señala la circunferencia de la siguiente figura.



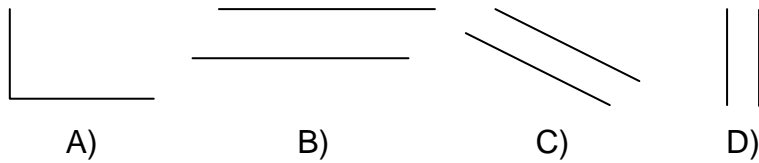
126. ¿Cuál será el perímetro de un círculo de 20 cm. de diámetro? Subraye la respuesta correcta.

- | | | | |
|-------------|-------------|-------------|-------------|
| 6.8 | 2.5 | 9.7 | 30.5 |
| centímetros | centímetros | centímetros | centímetros |
| A) | B) | C) | D) |

127. La opción que completa la información correctamente es: En 10 centímetros hay _____ milímetros.

- A) 1000 milímetros
- B) 100 milímetros
- C) 10000 milímetros
- D) 10 milímetros

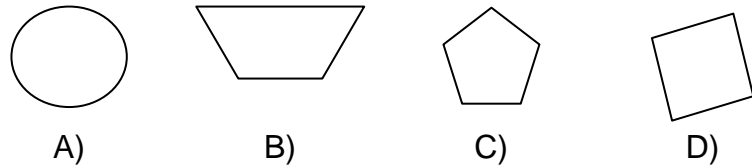
128. En la tienda de doña Regina vende el frijol en bolsitas de 500 gramos, si tiene 4 kilos de frijol, ¿cuántas bolsitas deberá preparar? Marque la respuesta correcta.



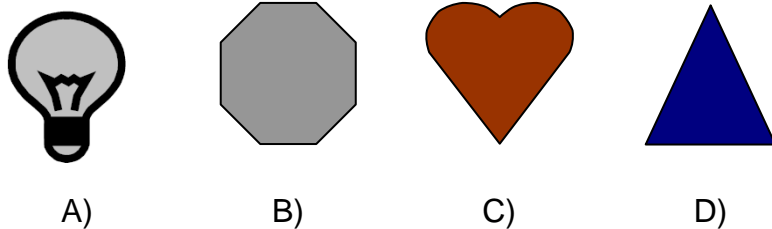
121. ¿Cuántos vértices tiene una sala de forma triangular?, marque la respuesta correcta.

- 6 vértices 2 vértices 1 vértice 3 vértices
 A) B) C) D)

122. Encierra la figura que tenga uno o más ángulos rectos.



123. Encierra en un círculo la figura que tenga más de cuatro ejes de simetría.



124. ¿Cuántos metros de alambre necesitará don Francisco para cercar su terreno de forma rectangular con dos hiladas, si sus medidas son de 20 por 30 metros? marca la respuesta correcta.

38. Consiste en mantener un juego de palabras y hacer un enredijo con ésta...

- A) Poema.
 B) Adivinanza.
 C) Trabalenguas.
 D) Crucigrama.

39. Exposición literaria que mantiene una rima, ritmo y una métrica, constituida en versos...

- A) La novela.
 B) El teatro.
 C) La fábula.
 D) La poesía.

40. Estilo literario que consiste en una narración breve en la que intervienen personajes que pueden ser reales o imaginarios y en oraciones está lleno de fantasía y aspectos mágicos...

- A) La novela.
 B) El cuento.
 C) La narración.
 D) El texto.

41. Narración extensa en la que se proyectan situaciones y personajes y temas variados, pueden ser de la vida real o imaginarios...

- A) La poesía.
 B) La fábula.
 C) La leyenda.
 D) La novela.

42. Narración breve en la que intervienen personas, animales, cosas u objetos y concluye con una moraleja o enseñanza...

- A) La fábula.
 B) La narración.

- C) El cuento.
- D) La historia.

43. Narración literaria que describe hechos históricos y en ocasiones sus personajes adquieren transformaciones terroríficas, también llamados mitos.

- A) El apólogo.
- B) La fábula.
- C) La crónica.
- D) La leyenda.

44. Instrumento literario que nos permite investigar el significado y origen de las palabras en forma sencilla...

- A) La enciclopedia.
- B) El vocabulario.
- C) El diccionario.
- D) La enciclopedia.

45. El médico al paciente le extiende una...

- A) Carta.
- B) Receta.
- C) Radiografía.
- D) Ambulancia.

46. Para comunicarnos con un ser estimado o querido usamos un medio tradicional impreso llamado...

- A) Carta.
- B) Recado.
- C) Volante.
- D) Acta.

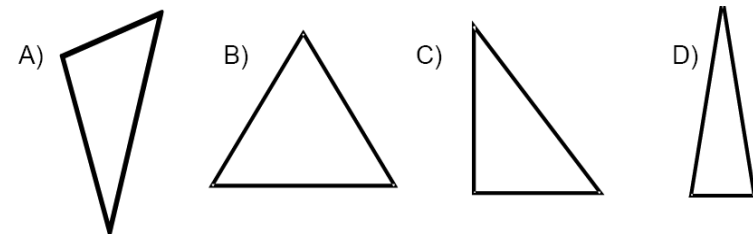
117. ¿De qué ingrediente utilizó la menor cantidad?

- A) $\frac{3}{4}$ de kg. de zanahorias.
- B) $\frac{1}{4}$ de kg. de cebolla blanca.
- C) $\frac{1}{4}$ de gr. de mantequilla.
- D) $1 \frac{1}{2}$ de caldo de pollo.

118. Ordene los siguientes objetos de mayor a menor tamaño, de acuerdo con su longitud, numerándolos del 1, 2, 3 y 4 según corresponda a cada uno de los casos.

_____ Hilo 1000 cm.	_____ Tela 1 metro 30 cm.
_____ Cinturón 90 cm.	_____ Cable 4 mtrs.

119. ¿Cuál de los siguientes triángulos se le conoce como equilátero, por tener sus tres lados iguales? Marca con una X la respuesta correcta.



120. Marque con una X la letra que corresponda a la línea que consideres sea perpendicular.

FIGURAS Y MEDIDAS

115. ¿Cuál de las siguientes figuras corresponde a la unidad de medida que sirve para medirlo?



A) centímetro



B) Metro



C) Kilogramo



D) Litro

Martina esta preparando una sopa de zanahoria para el cumpleaños de su hijo Juanito y para poderla preparar esta siguiendo la receta siguiente:

RECETA

Ingredientes

Zanahorias: 3/4 de Kg.

Cebolla Blanca: 1/4 de Kg.

Mantequilla: 1/4 gr.

Caldo de Pollo: 1 1/2 litro

116. ¿De qué ingrediente utilizó la mayor cantidad? marque la respuesta correcta.

- A) 3/4 de kg. de zanahorias.
- B) 1/4 de kg. de cebolla blanca.
- C) 1/4 de gr. de mantequilla.
- D) 1 1/2 de caldo de pollo.

LEER Y ESCRIBIR

Indicación: Subraye de las cuatro opciones la correcta.

47. En que tiempo verbal se encuentra el siguiente enunciado: **Clarisa estudió inglés**

- A) Futuro.
- B) Presente.
- C) Pretérito.
- D) Ante presente.

48. Es el comentario que se establece entre dos o más personas y que hablan de un tema de intereses común.

- A) Plática.
- B) Habla.
- C) Lengua.
- D) Diálogo.

49. Es la capacidad que se considera para diferenciar y apreciar las características propias que definen a una persona cosa u objeto.

- A) El comentario
- B) El argumento
- C) La descripción
- D) El vocabulario

50. Es un medio de comunicación popular que nos brinda las noticias o acontecimientos del día.

- A) La revista
- B) El periódico
- C) La novela
- D) El cuento

51. Se hace con cordialidad, en donde indica la fecha y hora del evento.

- A) El volante
- B) El cartel
- C) La carta
- D) La invitación

52. En este documento pequeño se indican los datos personales de quien la proporciona, teléfono, celular y dirección.

- A) Vale.
- B) Tarjeta.
- C) Invitación.
- D) Recado.

53. Documento sencillo que se proporciona ante la compra o adquisición de algún producto o material.

- A) Nota de remisión.
- B) Factura.
- C) Boleto.
- D) Impuesto.

54. Se colocan en paredes o postes para anunciar un evento taurino, de lucha, de boxeo, etc.

- A) Postres.
- B) Volantes.
- C) Tarjetas.
- D) Carteles.

55. Este material es vistoso, en ocasiones con mucha iluminación, indicando los productos en venta.

- A) Anuncio.
- B) Vitrina.
- C) Mantas.
- D) Pancartas.

- A) .40 cm.
- B) .30 cm.
- C) .25 cm.
- D) .33 cm.

113. El manager de los Pelícanos compró 12 uniformes para el equipo, pagó \$3,840.00 por todos, quiere saber ¿Cuánto cuesta cada uniforme?

- A) \$ 330.00
- B) \$320.00
- C) \$315.00
- D) \$318.00

Lea la siguiente pregunta y subraya la respuesta que responda correctamente lo que se te pide.

114. ¿Qué cantidad representa la siguiente distribución de dinero?

Dos billetes de	\$200.00	Un billete de	\$100.00
Cuatro billetes de	\$50.00	tres billetes de	\$20.00

- A) \$460.00
- B) \$580.00
- C) \$660.00
- D) \$760.00

108. Para decorar el salón de eventos de una graduación, Marisela tiene que hacer 30 arreglos florales, para ello cuenta con 30 docenas de rosas ¿Cuántas flores debe colocar en cada arreglo?

- A) 16 flores
- B) 15 flores
- C) 12 flores
- D) 14 flores

109. Un kilogramo de bolsa de polietileno cuesta \$32.00 y trae 64 piezas ¿Cuál es el costo de cada bolsa?

- A) \$ 0.55
- B) \$ 0.50
- C) \$ 0.38
- D) \$ 0.54

110. Mariana tiene ahorrado \$ 1,780.00 y Catalina \$ 1,070.00 ¿Cuánto le falta a Catalina para tener la misma cantidad que Mariana?

- A) \$ 715.00
- B) \$ 725.00
- C) \$ 810.00
- D) \$710.00

111. ¿Cuántas veces cabe el número 7 en la cantidad de 840?

- A) 115 veces
- B) 120 veces
- C) 118 veces
- D) 121 veces

112. Inocencia compro 7 metros de tela para hacer unas cortinas, en la primera cortina utilizó 2.50 metros, en la segunda solamente 1.50 metros y en la tercera ocupo 2.75 metros ¿Cuánta tela sobró?

56. Documento que se distribuye con la finalidad de promover algún producto que se oferta.

- A) Boletín
- B) Cartel
- C) Anuncio
- D) Volante

57. Comprobante proporcionado al usuario para poder viajar.

- A) Cupón
- B) Talón
- C) Boleto
- D) Cheque

58. Documento que se envía generalmente a un familiar lejano y del cual deseamos tener noticias sobre su bienestar.

- A) Recado.
- B) Aviso.
- C) Comentario.
- D) Carta.

59. Es un documento importante que se elabora al celebrarse alguna reunión de intereses en general de una determinada comunidad o población.

- A) Acta de nacimiento.
- B) Acta de asamblea.
- C) Acta de confirmación.
- D) Acta de Constitutiva.

60. Cuando se tienen descuidos y no se toman las precauciones necesarias, esto puede originar un...

- A) Baile.
- B) Negocio.
- C) Accidente.
- D) Concurso.

61. El registro de expresiones o palabras previamente seleccionadas reciben el nombre de....

- A) Vocabulario.
- B) Tecnicismos.
- C) Resumen.
- D) Glosario.

62. Nombre que recibe la solicitud que se elabora para requerir algún cargo, oficio o puesto en una empresa.

- A) Gerente.
- B) Empleo.
- C) Demanda.
- D) Contrato.

63. De estos cuatro apellidos ¿Cuál es el que debe ir primero?

- A) Díaz.
- B) Correa.
- C) Vázquez.
- D) Barradas.

64. Son letras que resumen los nombres de instituciones o empresas.

- A) Abreviaturas.
- B) Siglas.
- C) Diminutivos.
- D) Cuestionarios.

65. Son palabras que se escriben diferente, pero que tienen el mismo significado.

- A) Homónimas.
- B) Homógrafas.
- C) Antónimos.
- D) Sinónimos.

El Gerente de Producción desea saber ¿Cuántos refrescos de fresa faltan para producir la misma cantidad que los de Naranja?

- A) 4,670
- B) 4,871
- C) 4,980
- D) 4,770

105. El Sector Salud realizó la campaña antirrábica, para la ciudad de Xalapa destinó 8,976 dosis para distribuir en una zona y para el puerto de Veracruz, destinó 12,595 para otra zona. ¿Cuántas dosis de más recibió el Puerto de Veracruz que Xalapa?

- A) 3,720
- B) 3,627
- C) 3,619
- D) 3,719

106. Luís viajó en el metro de la ciudad de México y desea calcular cuantas personas caben en él. El metro tiene 12 vagones y en cada uno caben 30 personas sentadas. ¿Cuántas personas caben en total en los 12 vagones del metro?

- A) 366
- B) 375
- C) 360
- D) 370

107. Juan y Rosendo compraron una computadora equipada en \$12,700.00. Si la van a pagar en partes iguales, ¿Cuánto tendrá que aportar cada uno?

- A) \$7,350.00
- B) \$6,430.00
- C) \$7,340.00
- D) \$6,350.00

¿Cuánto ahorro durante el año?

- A) \$2,050.00
- B) \$2,000.00
- C) \$2,030.00
- D) \$2,060.00

102. Mercedes gana \$835.00 pesos y Lucia \$ 750.00, ambas fueron de compras y Mercedes adquirió lo siguiente:



Precio
\$100.00



Precio
\$150.00



Precio
\$95.00

¿Cuánto dinero le quedó a Mercedes?

- A) \$ 470.00
- B) \$ 490.00
- C) \$ 495.00
- D) \$ 480.00

103. Martín compro unos Tenis y pagó con un billete de \$200.00, otro de \$100.00 uno de \$50.00 y una moneda de \$10.00. La cajera le dijo: “joven falta \$7.00” ¿Cuánto costaron los tenis?

- A) \$397.00
- B) \$367.00
- C) \$357.00
- D) \$387.00

104. La fábrica de Refrescos “La Sirenita” produce durante el día lo siguiente:

* 8,730 Refrescos de fresa * 13,500 Refrescos de Naranja

66. Narración literaria, en la que intervienen animales que adoptan posturas humanas y culmina con una moraleja.

- A) Cuento.
- B) Fábula.
- C) Leyenda.
- D) Novela.

67. Dichos populares que van pasando de generación en generación y que también nos previene, orienta y da consejos.

- A) Historias.
- B) Narraciones.
- C) Sucesos.
- D) Refranes.

68. Narración breve sobre un hecho que nos ha ocurrido y nos ha dejado una experiencia de lo que es en realidad la vida.

- A) La anécdota.
- B) La historia.
- C) El suceso.
- D) La fabula.

69. Son creaciones literarias, formadas por estrofas, versos y rimas.

- A) Composiciones
- B) Paradigmas
- C) Refranes
- D) Poemas

**EJE DE MATEMÁTICAS
MATEMÁTICAS PARA EMPEZAR**

70. Luís trabaja en una ladrillera acomodando los ladrillos en hileras de 5, ¿Cuántos ladrillos acomodó Luís, si durante el día hizo 5 hileras de 30 ladrillos cada una? selecciona la respuesta correcta.

- A) 45 Ladrillos B) 150 Ladrillos C) 120 Ladrillos D) 70 Ladrillos

71. Rosita tiene un local de antojitos que abre únicamente los sábados y domingos, si el sábado vendió 20 empanadas, 15 tacos dorados y 35 picaditas y el domingo vendió 10 empanadas, 5 tacos dorados y 11 tostadas ¿Qué antojito vendió más en total?

- A) Empanadas B) Tacos Dorados C) Picaditas D) Tostadas

72. Jacinto y Renato juntan latas de aluminio para venderlas, si el lunes juntaron 15, el martes 11, el miércoles 8, el jueves 5, el viernes 7 y el sábado 10, ¿Cuál de las siguientes series de números esta ordenada correctamente de menor a mayor?, subráyala.

- A) 15, 11, 8, 5, 7, 10
B) 5, 7, 8, 10, 11, 15
C) 10, 7, 5, 8, 11, 15



CUENTAS ÚTILES

Indicación: Subraye de las cuatro opciones la correcta.

100. Don Jacinto elabora dulce de jamoncillo, preparados con semillas de pipián y azúcares. Tiene un pedido de 187 piezas y desea saber ¿Cuántas decenas tiene para su entrega y las piezas que le sobran?

- A) 180 decenas y sobran 7 piezas.
B) 170 decenas y sobran 7 piezas.
C) 17 decenas y sobran 17 piezas.
D) 18 decenas y sobran 7 piezas.

101. Sr. Marcelo Morales Alfaro ahorró en el Banco durante el año 2007 ,la siguientes cantidades:

PERIODO 1 DE ENERO AL 31 DE DICIEMBRE DEL 2007

ESTADO DE CUENTA

MARCELO MORALES ALFARO
INDEPENDENCIA #28
CP. 91635
XALAPA, VERACRUZ

FECHA	INGRESO	EGRESO
ENERO	\$100.00	\$0.00
FEBRERO	\$150.00	\$0.00
MARZO	\$200.00	\$0.00
ABRIL	\$120.00	\$0.00
MAYO	\$260.00	\$0.00
JUNIO	\$150.00	\$0.00
JULIO	\$75.00	\$0.00
AGOSTO	\$150.00	\$0.00
SEPTIEMBRE	\$190.00	\$0.00
OCTUBRE	\$450.00	\$0.00
NOVIEMBRE	\$107.00	\$0.00
DICIEMBRE	\$78.00	\$0.00



98. En la tortería de Doña Panchita, Clarita compró $\frac{2}{4}$ de jamón y tenía $\frac{3}{4}$ en el refrigerador, ¿Cuánto jamón tendrá en total para elaborar las tortas?

- A) $1 \frac{1}{5}$
- B) $1 \frac{1}{3}$
- C) $1 \frac{1}{2}$
- D) $1 \frac{1}{4}$

99. De la siguiente lista ¿Cuál es la cantidad que representa las centenas?

- A) 1940
- B) 40000
- C) 796
- D) 85

D) 15, 11, 10, 8, 7, 5

73. Marcela lava ropa para mantener a sus tres hijos, si a don Joaquín le lavó 2 docenas, ¿Qué cantidad de ropa le lavo Marcela?

- A) 15 prendas.
- B) 12 prendas.
- C) 24 prendas.
- D) 36 prendas.

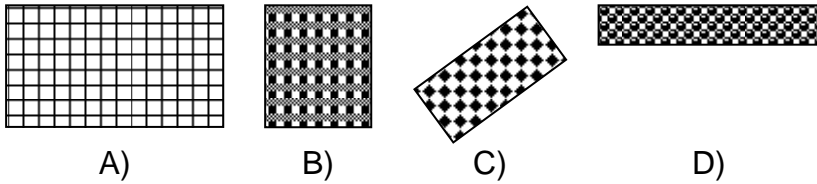
74. Josefina hace vestidos en su comunidad y por hacer 4 vestidos se lleva 3 semanas, ¿Cuánto tarda en hacer el trabajo en días? marque la respuesta correcta.

- E) 21 días.
- F) 12 días.
- G) 15 días.
- H) 20 días.

75. Ezequiel vende gallinas en el mercado de Huayacocotla, Veracruz. Entre el sábado y el domingo vendió 7 gallinas. si él tenía 24 gallinas en total, ¿Cuántas gallinas le quedaron?

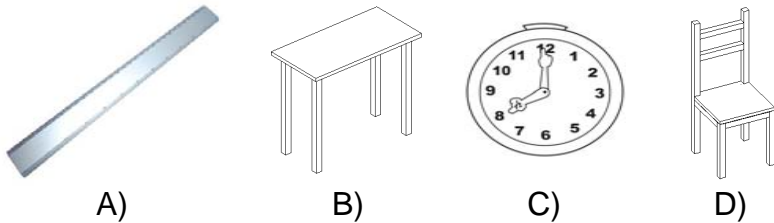
- A) 17 gallinas.
- B) 13 gallinas.
- C) 18 gallinas.
- D) 20 gallinas.

Observe los siguientes manteles que doña Manuela cortó y conteste la pregunta 76.



76. ¿En cuál de los manteles necesitará más encaje doña Manuela para las orillas de éstos? marque una de las opciones

77. Marque con una X la figura en la que usted vea que hay una línea curva.



Observe la siguiente imagen y responda las preguntas 78 y 79.



78. ¿Cuántas decenas de árboles hay en el dibujo?

- A) 2 decenas.
- B) 5 decenas.
- C) 4 decenas.
- D) 7 decenas.

79. ¿Cuántas unidades quedaron?

- A) 3 unidades.
- B) 2 unidades.
- C) 4 unidades.

D) \$ 116.00

94. Un recipiente contiene 5 litros de gasolina, ¿Cuántos cuartos de gasolina contiene?

- A) 30 cuartos.
- B) 22 cuartos
- C) 20 cuartos.
- D) 18 cuartos.

95. En la mueblería “La Haciendita”, el costo del refrigerador es \$8,500.00 pesos al contado, a crédito el costo es \$10,700.00 pesos, a pagar a 12 meses ¿Cuánto ahorro si lo compró de contado?

- A) \$ 2,200.00
- B) \$ 2,020.00
- C) \$ 2,500.00
- D) \$ 2,700.00

96. En la ferretería El peñasco el precio del bulto de cemento es de \$90.00 pesos ¿Cuánto pagará José por 22 bultos?

- A) \$ 1,985.00
- B) \$ 1,981.00
- C) \$ 4,500.00
- D) \$ 1,980.00

97. Marcos trabaja en una bodega almacenando la mercancía, en cada gabinete coloca 8 bultos de azúcar, ¿Cuántos gabinetes utilizara para acomodar 184 bultos de azúcar?

- A) 18
- B) 27
- C) 23
- D) 24

89. Si compro $\frac{3}{4}$ de queso ¿Cuánto queda?

- A) $\frac{2}{4}$
- B) $\frac{1}{2}$
- C) $\frac{1}{4}$
- D) $\frac{1}{8}$

90. En la carnicería compre 750 gramos de carne, ¿Cuánto falta para un kilogramo?

- A) 350 gramos.
- B) 250 litros.
- C) 250 kilogramos.
- D) 250 gramos.

91. Son cuerpos que tienen dos bases paralelas iguales, sus caras laterales son de forma rectangular y se conocen con el nombre de...

- A) Cuadriláteros.
- B) Primas.
- C) Pirámides.
- D) Rectángulos.

92. Jorge mide 1.80 m., Samuel 1.55 m ¿Cuántos centímetros es más pequeño Samuel?

- A) 35 cm.
- B) 18 cm.
- C) 25 cm.
- D) 26 cm.

93. ¿Cuánto gasto Lupita si compro 2 litros de aceite, 3 kilogramos de azúcar, 2 kilogramos de tomate? El costo de cada producto es:

*** Aceite a \$ 22.00 litros. * Azúcar a \$ 14.00 kilo.**

*** Tomate a \$ 9.00 kilo.**

- A) \$ 118.00
- B) \$ 104.00
- C) \$ 45.00

D) 5 unidades.

80. María vende arreglos florales y le faltan por vender 24 arreglos para terminar los 40 que tenía al principio, ¿Cuántos arreglos ha vendido? Marca la respuesta correcta.

- A) 16 arreglos florales.
- B) 20 arreglos florales.
- C) 15 arreglos florales.
- D) 11 arreglos florales.


81. Margarita fue al mercado y compró \$15.00 de chiles, \$20.00 tomates, \$18.00 cebollas y pagó con un billete de \$100.00, ¿Cuánto dinero le dieron de cambio?

- A) \$ 75.00
- B) \$ 46.00
- C) \$ 35.00
- D) \$ 47.00

82. Observe las siguientes figuras y marque con una X la letra de debajo de la figura que es simétrica.



A)



B)



C)



D)

83. Don Rafael hace pasteles para vender en distintos lugares, si por la mañana hizo 13 pasteles y por la tarde hizo algunos más. Si en total hizo 25 pasteles, ¿Cuántos pasteles hizo durante la tarde?

- A) 10 pasteles.
- B) 11 pasteles.
- C) 12 pasteles.
- D) 15 pasteles.

84. Susana y Jacinta son primas. Ellas son empleadas domésticas y el dinero que reciben por sus servicios, lo ocupan para cubrir sus gastos. Durante la primera quincena de marzo, Susana ganó \$430.00 y Jacinta \$450.00, si Susana gastó de su dinero \$180.00, ¿Cuánto dinero le quedó?

- A) \$ 250.00
- B) \$ 120.00
- C) \$ 230.00
- D) \$ 245.00

LOS NÚMEROS

Indicación: Subraye de las cuatro opciones la correcta.

85. Para contar usamos los números naturales, ¿Cuáles son?

- A) Del 20 al 25.
- B) Del 100 al 200
- C) Del 0 al 9.
- D) Del 1 al 10.

86. El número que llega hasta las centenas es...

- A) 90
- B) 9
- C) .090
- D) 900

87. ¿Qué nombre recibe el sistema de numeración que usamos?

- A) Monetario
- B) Decimal
- C) Centesimal
- D) Monosimal

88. Ramiro y Enrique recibieron 2,750 litros de leche, si tenían en refrigeración 320 litros ¿Cuántos litros quedan?

- A) 3,170 litros
- B) 2,430 litros
- C) 3,700 litros
- D) 3,070 litros